



Município de Mirim Doce/SC  
Processo Seletivo Público 004/2026

# CADERNO DE PROVA

## CONTADOR


### INSTRUÇÕES



Confira se esse Caderno de Prova contém a quantidade de questões indicadas. A substituição deste Caderno de Prova ocorre apenas antes de iniciar a prova.


#### PROVA TEÓRICO-OBJETIVA

 3 horas

 20 questões

 4 alternativas

 Saída permitida somente após 1 hora e 30 minutos de prova

 O candidato só poderá levar este Caderno a partir de 30 minutos para o término do horário da prova


- Ⓢ O tempo de prova inclui o preenchimento do Cartão-Resposta.
- Ⓢ Nenhuma informação acerca do conteúdo das questões será fornecida pelo Fiscal de Sala, pois é parte integrante da prova.
- Ⓢ Antes de sair da Sala de Prova, entregue o Cartão-Resposta ao Fiscal de Sala, **devidamente assinado**, e, após, se desloque imediatamente para a saída do local de prova.
- Ⓢ Ao final da prova, os 03 (três) últimos candidatos deverão permanecer na Sala de Prova até que o último termine a sua prova, devendo ambos testemunhar a devolução e o lacre dos documentos.
- Ⓢ A divulgação do gabarito preliminar se dará conforme Cronograma de Execução do certame.

TODOS OS DIREITOS RESERVADOS À LEGALLE CONCURSOS. PROIBIDO REPRODUÇÃO.

#### RASCUNHO PARA GABARITO

01		06		11		16	
02		07		12		17	
03		08		13		18	
04		09		14		19	
05		10		15		20	

Para responder às questões 01 a 03, leia o texto abaixo.



Autor: André Dahmer.

**Questão 01.** Na fala do personagem principal — **Este é o emprego mais legal que já roubei** —, o emprego do verbo **roubei** carrega um pressuposto semântico implícito na discussão contemporânea sobre o mercado de trabalho.

Esse termo sinaliza:

- (A) A necessidade de regulamentação urgente das apresentações de *stand-up comedy* para que robôs não infrinjam direitos autorais de artistas humanos.
- (B) A superioridade moral das máquinas em relação aos seres humanos no que tange à ética profissional.
- (C) O processo de substituição da força de trabalho humana pela automação e inteligência artificial.
- (D) Um crime cibernético de pirataria de dados perpetrado pelo robô para conseguir hackear o microfone do evento.

**Questão 02.** Considere o título da charge: **STAND-UP DE ROBÔS**. Do ponto de vista da estrutura, formação e flexão das palavras desse fragmento, analise as assertivas abaixo:

- I. O termo **Stand-up** constitui um estrangeirismo que, no contexto gramatical brasileiro, passa a funcionar morfologicamente como um substantivo.
- II. Na locução **de robôs**, o elemento **de** funciona como um pronome demonstrativo de ligação.
- III. O vocábulo **robôs** é uma palavra proparoxítona cuja acentuação gráfica é obrigatória por terminar na vogal **o** seguida de **s**.

Está CORRETO o que se afirma em:

- (A) I, apenas.
- (B) I e II, apenas.
- (C) I e III, apenas.
- (D) I, II e III.

**Questão 03.** Analise o período proferido pelo robô:

**Este é o emprego mais legal que já roubei!**

Considerando a estrutura morfosintática do período, os aspectos relacionados à voz verbal e as relações entre fonemas e grafemas presentes nas palavras do enunciado, assinale a alternativa CORRETA.

- (A) O verbo **roubei** encontra-se na voz passiva analítica, indicando que o agente da ação é a plateia humana.
- (B) Na palavra **roubei**, há a ocorrência de um dígrafo vocálico no segmento **ou**, o que reduz o número de fonemas em relação ao número de letras.
- (C) O vocábulo **mais** classifica-se como um advérbio de intensidade, atuando como um modificador que potencializa o sentido do adjetivo **legal**.
- (D) O termo **já** classifica-se foneticamente como um monossílabo átono e atua sintaticamente como um conectivo coordenativo explicativo.

## MATEMÁTICA/INFORMÁTICA

**Questão 04.** Uma pilha de areia fina para construção civil foi descarregada em um pátio, assumindo o formato aproximado de um cone circular reto. A altura da pilha é de 3 metros e o raio da base mede 4 metros. O mestre de obras precisa estimar o volume dessa areia para conferir com a nota fiscal de entrega do fornecedor. Utilizando a constante  $\pi$  igual a 3, qual é o volume total de areia, em metros cúbicos, presente nessa pilha cônica para a execução das obras de infraestrutura?

- (A) 144 m<sup>3</sup>.
- (B) 64 m<sup>3</sup>.
- (C) 48 m<sup>3</sup>.
- (D) 36 m<sup>3</sup>.

**Questão 05.** Para organizar um evento, foram compradas cadeiras e mesas. Sabe-se que o custo de 2 cadeiras e 1 mesa é R\$ 250,00. Já o custo de 5 cadeiras e 3 mesas é R\$ 700,00. O almoxarifado precisa precificar os itens separadamente para o controle de inventário móvel da unidade. Resolvendo o sistema de equações formado por essas informações de compra, qual é o valor individual de cada mesa que foi adquirida pela Administração para a composição do mobiliário do evento?

- (A) R\$ 150,00.
- (B) R\$ 100,00.
- (C) R\$ 120,00.
- (D) R\$ 50,00.

**Questão 06.** Para além de conter os **Modos de Exibição**, as ferramentas de **Zoom** e de **Janela**, o menu suspenso de **Macros**, bem como caixas de seleção para acionar a **Régua**, as **Linhas de Grade** e o **Painel de Navegação**, a guia **Exibir** também traz as opções disponíveis, em seção específica, de **Movimentação de Páginas**. Nesse sentido, considerando o Microsoft Word 365, em português, quantos dos seguintes itens são opções de movimentação de páginas? **I.** Horizontal; **II.** Vertical; **III.** Lado a Lado.

- (A) Nenhum deles.
- (B) Apenas 1 deles.
- (C) Apenas 2 deles.
- (D) Todos os 3.

## UTILIZE ESTE ESPAÇO PARA CÁLCULOS

## ATUALIDADES

**Questão 07.** O povoamento das terras mirim-docenses foi impulsionado por fluxos migratórios decorrentes de um grande e violento conflito ocorrido em terras vizinhas. Segundo a história de fundação do município, qual grupo de pessoas encontrou refúgio na região e de qual conflito armado eles escapavam?

- (A) Imigrantes europeus, que fugiam dos horrores e da devastação da Primeira Guerra Mundial.
- (B) Tropicões gaúchos, que precisaram escapar de emboscadas durante a Revolução Farroupilha.
- (C) Caboclos de Serra-Acima, que fugiram das agruras e da violência da Guerra do Contestado.
- (D) Colonos açorianos expulsos do litoral durante a invasão espanhola na Ilha de Santa Catarina.

**Questão 08.** O desenvolvimento produtivo inicial na área central de Mirim Doce contou com a ação decisiva de empreendedores pioneiros no início do século XX. Em 1916, Bruno Heidrich adquiriu grandes porções de terra na região e deu início à implantação de qual tipo de instalação?

- (A) Uma feclularia.
- (B) Uma pequena usina hidrelétrica.
- (C) Um engenho mecanizado de erva-mate.
- (D) Uma olaria artesanal para fabricação de telhas.

**Questão 09.** O IBGE realiza a classificação de hierarquia e áreas de influência dos municípios brasileiros para mapear as redes geográficas e de serviços. De acordo com os dados oficiais do Panorama de 2024 do IBGE, o município de Mirim Doce pertence hierarquicamente a qual Região Intermediária?

- (A) Região Intermediária do Vale do Itajaí.
- (B) Região Intermediária de Rio do Sul.
- (C) Região Intermediária de Blumenau.
- (D) Região Intermediária de Florianópolis.

## LEGISLAÇÃO

**Questão 10.** Tem-se que o Município deve promover programas de amparo às pessoas idosas, para assegurar sua participação na comunidade, a defesa de sua dignidade e bem-estar e garantir-lhes o direito à vida. Assim, nas ações de amparo ao idoso, o Município NÃO deve, conforme Lei Orgânica:

- (A) Prestar apoio técnico e financeiro às iniciativas comunitárias de estudos, pesquisa e divulgação da causa do idoso.
- (B) Assegurar incentivo à criação de asilos de idosos e estabelecimentos similares, fiscalizando seu funcionamento.
- (C) Colaborar com o treinamento de pessoal para as instituições beneficentes dedicadas ao idoso.
- (D) Garantir aos maiores de cinquenta e cinco anos de idade a gratuidade dos transportes coletivos urbanos.

**Questão 11.** Analise o texto a seguir, conforme Lei Orgânica:

*O Município deve promover o seu desenvolvimento econômico rural de modo que as atividades econômicas realizadas em seu território contribuem para elevar o nível de vida e ao bem-estar da população local, bem como valorizar o trabalho humano.*

Acerca do texto, pode-se afirmar que ele está:

- (A) Plenamente adequado, visto que observa a legislação municipal vigente.
- (B) Parcialmente adequado, visto que a elevação do bem-estar não se restringe à população local, mas à regional.
- (C) Parcialmente adequado, visto que a promoção de desenvolvimento econômico rural deve ser evitada, pois a vida se desloca para as cidades.
- (D) Plenamente inadequado, visto que em nada observa a legislação municipal vigente.

**Questão 12.** O Município, conforme Lei Orgânica, deve dispensar especial proteção à família, mediante a promoção e a execução de programas que assegurem, entre outros:

- I. A aplicação de mecanismos para coibir a violência no âmbito das relações familiares.
- II. Ações capazes de favorecer a estabilidade do casamento e inibir a dissolução familiar.

Acerca das assertivas, pode-se afirmar que:

- (A) Apenas I está correta.
- (B) Apenas II está correta.
- (C) I e II estão corretas.
- (D) I e II estão incorretas.

**Questão 13.** Os planos e programas municipais de amparo à criança e ao adolescente devem observar, além de outras diretrizes, as previstas em quantos dos seguintes itens, conforme Lei Orgânica? **I.** Atendimento integrado à criança de zero a seis anos, com ênfase para a nutrição, a saúde, o saneamento e o mercado de trabalho; **II.** Assistência especializada à gestante adolescente, salvo durante o perinatal; **III.** Estímulo à adoção.

- (A) Nenhum deles.
- (B) Apenas 1 deles.
- (C) Apenas 2 deles.
- (D) Todos os 3.

### CONHECIMENTOS ESPECÍFICOS

**Questão 14.** No curso da execução orçamentária de determinado ente federativo, identificou-se a necessidade de abertura de crédito adicional especial para atender a despesas não previstas na Lei Orçamentária Anual (LOA). Nos termos da Lei nº 4.320/1964, a abertura desse tipo de crédito está condicionada à existência de recursos disponíveis, devidamente comprovados. Com base nesse regramento, assinale a alternativa que indica CORRETAMENTE uma fonte de recursos apta à abertura de crédito adicional especial.

- (A) Expectativa de incremento da arrecadação tributária com base em projeções macroeconômicas ainda não realizadas.
- (B) Excesso de arrecadação efetivamente verificado no exercício financeiro.
- (C) Superávit financeiro apurado no balanço patrimonial do exercício corrente.
- (D) Contratação de operação de crédito ainda não autorizada pelo poder legislativo.

**Questão 15.** De acordo com o Código Tributário Nacional, analise as assertivas abaixo e julgue-as em Verdadeiras (V) ou Falsas (F):

- ( ) Imposto é o tributo cuja obrigação tem por fato gerador uma situação independente de qualquer atividade estatal específica, relativa ao contribuinte.
- ( ) A lei federal pode cometer aos Estados, ao Distrito Federal ou aos Municípios o encargo de arrecadar os impostos de competência da União cujo produto lhes seja distribuído no todo ou em parte.
- ( ) Salvo disposição em contrário, os atos normativos expedidos por autoridades administrativas entram em vigor 30 (trinta) dias após a data de sua publicação.

Qual alternativa preenche, CORRETAMENTE, de cima para baixo, os parênteses acima?

- (A) V – F – V.
- (B) V – V – F.
- (C) F – V – V.
- (D) F – V – F.

**Questão 16.** Considere que uma determinada entidade do setor público apresentou os seguintes saldos no Quadro dos Ativos e Passivos Financeiros e Permanentes, no exercício financeiro de 2025:

- Passivo Financeiro: R\$ 300.000;
- Ativo Financeiro: R\$ 400.000;
- Passivo Permanente: R\$ 700.000;
- Ativo Permanente: R\$ 1.200.000.

Com base nessas informações, é CORRETO afirmar que o Saldo Patrimonial apresentado foi de:

- (A) R\$ 400.000.
- (B) R\$ 500.000.
- (C) R\$ 600.000.
- (D) R\$ 800.000.

**Questão 17.** Em 31 de dezembro de 2017, determinado Município adquiriu um equipamento pelo montante de R\$ 504.000, encontrando-se o ativo disponível para uso imediato na mesma data. À época, estimava-se uma vida útil de cinco anos, ao término da qual o bem seria objeto de doação. A depreciação foi estabelecida pelo método das cotas constantes. Em 31 de dezembro de 2019, procedeu-se à revisão das estimativas inicialmente adotadas, redefinindo-se a vida útil remanescente do ativo até 31 de dezembro de 2023, bem como estabelecendo-se um valor residual de R\$ 40.000, considerando a intenção de alienação do bem ao final de sua utilização. Com base nessas informações, assinale a alternativa que indica o valor contábil do equipamento em 31 de dezembro de 2022.

- (A) R\$ 105.600.
- (B) R\$ 104.000.
- (C) R\$ 102.600.
- (D) R\$ 110.800.

**Questão 18.** No curso da execução de contrato administrativo de obra pública, a Administração identificou a necessidade de promover ajustes no projeto, visando à sua melhor adequação técnica aos objetivos pretendidos. A modificação implicaria acréscimo de 40% sobre o valor inicial atualizado do contrato, a ser formalizado por alteração unilateral. De acordo com a Lei nº 14.133/2021, assinale a alternativa CORRETA.

- (A) A alteração é admissível, pois, em contratos de obras e serviços de engenharia, os acréscimos podem atingir até 50% do valor inicial atualizado do contrato.
- (B) A alteração somente será válida mediante concordância do contratado, uma vez que o limite legal pode ser ampliado por acordo entre as partes.
- (C) A alteração é possível, desde que devidamente justificada por interesse público, não se submetendo a limites percentuais em hipóteses excepcionais.
- (D) A alteração é vedada, por ultrapassar o limite de 25% do valor inicial atualizado do contrato, não se enquadrando nas exceções legais.

**Questão 19.** O estoque da dívida ativa de determinado Município era de R\$ 400.000 ao final de 2024. No exercício de 2025, foram inscritos R\$ 20.000 em novos créditos, enquanto R\$ 60.000 foram recuperados do estoque existente. Com base nessas informações, assinale a alternativa que indica CORRETAMENTE a variação do estoque da dívida ativa ao final de 2025.

- (A) Reduziu em R\$ 20.000.
- (B) Aumentou em R\$ 40.000.
- (C) Reduziu em R\$ 40.000.
- (D) Aumentou em R\$ 20.000.

---

**Questão 20.** Com base no Manual de Demonstrativos Fiscais (MDF) – 15ª edição, a Dívida Consolidada Líquida (DCL) corresponde ao montante da Dívida Consolidada (DC) deduzido de determinados ativos financeiros. De acordo com esse regramento estabelecido pelo MDF, assinale a alternativa que apresenta CORRETAMENTE os itens a serem deduzidos para fins de apuração da DCL.

- (A) As disponibilidades de caixa, as aplicações financeiras e os créditos de curto prazo realizáveis no exercício seguinte.
- (B) As disponibilidades de caixa, os valores em trânsito e os restos a pagar não processados.
- (C) As aplicações financeiras, os créditos inscritos em dívida ativa e as disponibilidades.
- (D) As disponibilidades de caixa, as aplicações financeiras e os demais haveres financeiros.