



Município de Cerro Grande/RS  
Processo Seletivo Simplificado 02/2026

# CADERNO DE PROVA

## MOTORISTA


### INSTRUÇÕES




Confira se esse Caderno de Prova contém a quantidade de questões indicadas. A substituição deste Caderno de Prova ocorre apenas antes de iniciar a prova.


#### PROVA TEÓRICO-OBJETIVA

 3 horas

 25 questões

 4 alternativas

 Saída permitida somente após 1 hora de prova

 O candidato só poderá levar este Caderno após 2 horas de prova

- ⌚ O tempo de prova inclui o preenchimento do Cartão-Resposta.
- ⌚ Nenhuma informação acerca do conteúdo das questões será fornecida pelo Fiscal de Sala, pois é parte integrante da prova.
- ⌚ Antes de sair da Sala de Prova, entregue o Cartão-Resposta ao Fiscal de Sala, **devidamente assinado**, e, após, se desloque imediatamente para a saída do local de prova.
- ⌚ Ao final da prova, os 03 (três) últimos candidatos deverão permanecer na Sala de Prova até que o último termine a sua prova, devendo ambos testemunhar a devolução e o lacre dos documentos.
- ⌚ A divulgação do gabarito preliminar se dará conforme Cronograma de Execução do certame.

TODOS OS DIREITOS RESERVADOS À LEGALLE CONCURSOS. PROIBIDO REPRODUÇÃO.

#### RASCUNHO PARA GABARITO

01		06		11		16		21	
02		07		12		17		22	
03		08		13		18		23	
04		09		14		19		24	
05		10		15		20		25	

## LÍNGUA PORTUGUESA

Para responder às questões 01 a 05, leia a charge abaixo.



Autor: Cazo

**Questão 01.** Na charge, há uma cena familiar em que o pai faz um anúncio aos filhos enquanto observa alguns papéis. Considerando os elementos visuais e o texto presente, qual é a intenção comunicativa principal dessa charge?

- (A) Defender que as crianças devem trabalhar desde cedo para pagar as contas da casa.
- (B) Ensinar de forma didática como as famílias devem organizar seus planejamentos financeiros.
- (C) Utilizar o humor para criticar o alto nível de endividamento das famílias, invertendo ironicamente a lógica de quem deve pagar a mesada.
- (D) Mostrar que os filhos gastaram todo o dinheiro da família e agora estão sendo punidos financeiramente.

**Questão 02.** A palavra **CÁLCULOS**, presente no balão de fala da charge, obedece a uma regra de acentuação gráfica da Língua Portuguesa. Quanto à localização da sílaba tônica, é **CORRETO** afirmar que essa palavra se classifica como:

- (A) Oxítona, pois a última sílaba é a tônica.
- (B) Paroxítona terminada em consoante **s**.
- (C) Proparoxítona, pois a antepenúltima sílaba é a tônica.
- (D) Monossílaba tônica, devendo ser obrigatoriamente acentuada.

**Questão 03.** A família de palavras (ou palavras cognatas) é o conjunto de termos que compartilham a mesma raiz ou radical, mantendo um vínculo de significado. No título que acompanha a charge, tem-se a palavra **ENDIVIDADAS**. Diante disso, assinale a alternativa que apresenta apenas palavras da mesma família do termo em destaque.

- (A) Divisão, divisa e divisório.
- (B) Adivinhação, divino e divindade.
- (C) Dívida, endividar e endividamento.
- (D) Indivíduo, individualismo e individualidade.

**Questão 04.** A relação entre letras e fonemas permite identificar fenômenos sonoros na escrita. No trecho **TERÃO QUE NOS PAGAR**, a palavra sublinhada apresenta um fenômeno fonético. Qual é esse fenômeno?

- (A) Um encontro consonantal, pois as consoantes mantêm sons independentes na pronúncia.
- (B) Um dígrafo, pois a junção das letras **Q** e **U** representa um único fonema (som) antes da vogal **E**.
- (C) Um hiato, pois as vogais são pronunciadas em sílabas diferentes.
- (D) Um ditongo crescente, já que a vogal **U** é pronunciada com clareza na leitura.

**Questão 05.** Na charge, o homem inicia a sua fala utilizando a forma verbal **FIZEMOS**. Levando em consideração os aspectos linguísticos e o sentido do verbo nesse contexto, é **CORRETO** afirmar que ele indica uma ação que:

- (A) Ainda vai acontecer em um futuro distante e incerto para a família.
- (B) Ocorre no mesmo momento em que o personagem conversa com as crianças.
- (C) Já foi concluída no passado, antes do momento da fala do personagem.
- (D) Repetia-se como um hábito diário na rotina financeira dos pais.

## MATEMÁTICA

**Questão 06.** Um almoxarifado recebeu três lotes de processos para arquivamento. O primeiro lote continha 240 documentos, o segundo, 360 documentos, e o terceiro, 480 documentos. Para organizar o trabalho, um servidor decidiu repartir todos os documentos em pastas, de modo que todas ficassem com a mesma quantidade e que essa quantidade fosse a maior possível, sem sobras. Sabendo que cada pasta deve conter apenas papéis de um único lote, qual será o total de pastas?

- (A) 120.
- (B) 10.
- (C) 9.
- (D) 8.

**Questão 07.** Durante a manutenção de uma frota de veículos, um mecânico percebeu que três luzes de painel apresentavam falhas intermitentes. A primeira luz acende a cada 12 minutos, a segunda acende a cada 18 minutos e a terceira acende a cada 20 minutos. Se em determinado momento as três luzes acenderam simultaneamente para o técnico, após quanto tempo, medido em minutos inteiros, esse fenômeno de acendimento conjunto voltará a ocorrer pela primeira vez no pátio de manobras?

- (A) 180.
- (B) 120.
- (C) 160.
- (D) 240.

UTILIZE ESTE ESPAÇO PARA CÁLCULOS

**Questão 08.** Um departamento planejou a compra de materiais de escritório utilizando exatamente R\$ 1.000. Foram adquiridos 20 pacotes de papel, totalizando R\$ 400, e 50 pastas, totalizando R\$ 300. Com o valor restante, o responsável deve comprar o maior número possível de grampeadores, que custam R\$ 25 cada unidade, sem que sobre qualquer quantia em dinheiro ao final da operação. Considerando o orçamento total disponível, quantos grampeadores foram comprados?

- (A) 10.
- (B) 12.
- (C) 15.
- (D) 20.

**Questão 09.** Para um evento comunitário, a organização comprou doze centenas de garrafas de água. No primeiro dia, foram consumidas 340 garrafas e, no segundo dia, o dobro dessa quantidade foi distribuída aos participantes. No terceiro dia, verificou-se que ainda restavam algumas unidades, que foram divididas igualmente entre nove associações de bairro presentes no local. Considerando que NÃO houve perdas, quantas garrafas de água cada uma das associações recebeu?

- (A) 50.
- (B) 40.
- (C) 30.
- (D) 20.

**Questão 10.** Um funcionário gasta exatamente quarenta e cinco minutos para concluir a análise de um processo administrativo. Se ele iniciar sua jornada de trabalho às oito horas da manhã e trabalhar de forma ininterrupta, analisando um processo após o outro sem qualquer intervalo, qual será o tempo total necessário, expresso em horas, para que ele finalize a oitava análise documental do dia, considerando que todos os processos demandam o mesmo tempo de dedicação do servidor?

- (A) 5.
- (B) 6.
- (C) 7.
- (D) 8.

UTILIZE ESTE ESPAÇO PARA CÁLCULOS

ATUALIDADES

**Questão 11.** Devido ao agravamento do aquecimento global, o secretário-geral da Organização das Nações Unidas (ONU) adotou em 2023 uma nova expressão para descrever a atual fase de elevação extrema das temperaturas. Qual é o termo utilizado pela ONU para definir esse cenário de alerta mundial?

- (A) Efeito Estufa Primário.
- (B) Resfriamento Estratosférico.
- (C) Ebulição Global.
- (D) Inversão Térmica Severa.

**Questão 12.** O Censo 2022 mapeou curiosidades como a frequência e o número de nomes próprios no país. Considerando que o nome Maria ocupa a liderança geral isolada, qual é o segundo nome MAIS popular e frequente entre a população brasileira?

- (A) José.
- (B) João.
- (C) Ana.
- (D) Francisco.

**Questão 13.** O Instituto Brasileiro de Geografia e Estatística (IBGE) realiza o Censo Demográfico para contabilizar as características dos habitantes do país. De acordo com os dados gerais do Censo de 2022, qual é a população total residente no Brasil?

- (A) Exatamente 104 milhões de pessoas.
- (B) Cerca de 203 milhões de pessoas.
- (C) Aproximadamente 150 milhões de pessoas.
- (D) Quase 300 milhões de pessoas.

**Questão 14.** A poluição atmosférica pode ser gerada tanto por ações humanas quanto por eventos próprios da natureza. Entre as opções abaixo, qual grupo de eventos representa estritamente fontes naturais de poluição do ar?

- (A) Vulcões, incêndios florestais e poeira levada pelo vento.
- (B) Queima de resíduos agrícolas e indústrias químicas.
- (C) Queima de combustíveis fósseis e usinas nucleares.
- (D) Escapamentos de veículos automotores e geradores a diesel.

**Questão 15.** O Rio Grande do Sul é o nono maior estado do Brasil em extensão e possui uma malha governamental capilarizada. Segundo os dados oficiais divulgados pelo Governo do Estado, em quantos municípios o território gaúcho está dividido atualmente?

- (A) 281 municípios.
- (B) 398 municípios.
- (C) 497 municípios.
- (D) 550 municípios.

### LEGISLAÇÃO

**Questão 16.** Estabelecer normas de edificação, loteamento, de arruamento e de zoneamento urbano, bem como as limitações urbanísticas convenientes à ordenação de seu território é uma das competências privativas do Município, assim como, conforme Lei Orgânica:

- I. Promover adequado ordenamento territorial mediante planejamento e controle do uso do parcelamento e da ocupação do solo urbano.
- II. Participar de entidades que congreguem outros municípios integrados na mesma região, na forma estabelecida em lei.

Acerca das assertivas, pode-se afirmar que:

- (A) Apenas I está correta.
- (B) I e II estão corretas.
- (C) Apenas I está incorreta.
- (D) I e II estão incorretas.

**Questão 17.** Quantos dos seguintes itens apresentam situações que podem fazer com que o Vereador perca o mandato, conforme a Lei Orgânica? **I.** Cujo procedimento for declarado incompatível com o decoro parlamentar; **II.** Que sofrer condenação criminal, em sentença transitada em julgado; **III.** Deixar de comparecer em cada período legislativo, sem motivo justificado e aceito pela Câmara, à quarta parte das sessões ordinárias e a cinco sessões extraordinárias.

- (A) Nenhum deles.
- (B) Apenas 1 deles.
- (C) Apenas 2 deles.
- (D) Todos os 3.

**Questão 18.** Analise o texto a seguir, conforme a Lei Orgânica:

*O Poder Legislativo é exercido pela Câmara Municipal, composta por sete Vereadores, eleitos no Município, em pleito direto, para um mandato de quatro anos, sendo que as deliberações da Câmara serão tomadas por maioria de votos, presente a maioria de seus membros, salvo disposições em contrário nas Constituições Federal, Estadual e na Lei Orgânica.*

Acerca do texto, pode-se afirmar que ele está:

- (A) Plenamente adequado, visto que observa a legislação municipal vigente.
- (B) Parcialmente adequado, visto que o Poder Executivo é exercido pela Câmara Municipal.
- (C) Plenamente inadequado, visto que em nada observa a legislação municipal vigente.
- (D) Parcialmente adequado, visto que a Câmara Municipal é composta por nove Vereadores.

**Questão 19.** As alternativas que seguem apresentam algumas afirmações baseadas no que traz a Lei Orgânica. A partir disso, assinale a alternativa que apresenta uma informação que pode ser considerada como INCORRETA.

- (A) A Câmara poderá cassar o mandato do Vereador que fixar residência fora do Município.
- (B) Os Vereadores perceberão, a título de remuneração, duas a quatro vezes o valor do menor padrão básico do vencimento do servidor municipal, estabelecido até quinze dias antes do pleito que indicará os eleitos para a gestão seguinte.
- (C) O Presidente da Câmara de Vereadores fará jus à verba de representação, fixada em cinquenta por cento da remuneração do Vereador.
- (D) Extingue-se o mandato do Vereador e assim o será declarado pelo Presidente da Câmara nos casos de renúncia escrita e falecimento.

**Questão 20.** Analise as partes que seguem acerca de uma das competências privativas do Prefeito, conforme Lei Orgânica: Prestar, dentro de cinco dias, as informações solicitadas pela Câmara, conselhos populares ou entidades representativas de classe ou de munícipes (**1ª parte**), referentes aos negócios públicos do Município, não podendo prorrogar o prazo (**2ª parte**).

Acerca das partes, pode-se afirmar que:

- (A) Assim como a 1ª parte está correta, tem-se que a 2ª parte também está.
- (B) Enquanto a 1ª parte está correta, sabe-se que a 2ª parte não está.
- (C) Enquanto a 1ª parte está incorreta, sabe-se que a 2ª parte não está.
- (D) Assim como a 1ª parte está incorreta, tem-se que a 2ª parte também está.

## CONHECIMENTOS ESPECÍFICOS

**Questão 21.** O Motorista deve verificar diariamente o funcionamento do sistema elétrico, lâmpadas, faróis, sinalizadoras e buzinas. Sobre as obrigações e as regras do Código de Trânsito Brasileiro em relação aos equipamentos do veículo, julgue as assertivas abaixo em Verdadeiras (V) ou Falsas (F):

- ( ) Antes de colocar o veículo em circulação, o condutor deverá verificar a existência e as boas condições de funcionamento dos equipamentos de uso obrigatório.
- ( ) Transitar com defeito no sistema de iluminação, de sinalização ou com lâmpadas queimadas é permitido durante o dia, não sendo considerado uma infração.
- ( ) O condutor de veículo só poderá fazer uso de buzina em toque breve, para fazer advertências necessárias a fim de evitar sinistros.

Qual alternativa preenche, CORRETAMENTE, de cima para baixo, os parênteses acima?

- (A) V - V - F.
- (B) F - V - F.
- (C) V - F - V.
- (D) F - F - V.

**Questão 22.** Ao se encarregar da entrega de correspondências ou de cargas, o Motorista muitas vezes precisa deixar o veículo parado na via. Diante disso, o Código de Trânsito Brasileiro faz uma distinção clara entre as manobras de estacionamento e de parada. Com base nas definições oficiais, assinale a alternativa CORRETA.

- (A) O estacionamento é a imobilização do veículo apenas pelo tempo necessário para efetuar o embarque ou desembarque de pessoas.
- (B) A operação de carga ou descarga de mercadorias é considerada sempre como parada, não estando sujeita às regras de estacionamento da via.
- (C) Parada é a imobilização do veículo com a finalidade e pelo tempo estritamente necessário para efetuar embarque ou desembarque de passageiros.
- (D) É permitido estacionar livremente sobre as faixas de travessia de pedestres, desde que seja para realizar entregas rápidas de correspondência.

**Questão 23.** Antes e durante a jornada de trabalho, o Motorista deve observar o painel de instrumentos do veículo para identificar possíveis defeitos de funcionamento. Acerca disso, assinale a alternativa CORRETA.

- (A) O velocímetro é o instrumento que registra de forma irreversível a temperatura da água do radiador.
- (B) O manômetro é o dispositivo que indica e marca a quantidade de combustível no tanque.
- (C) O termômetro tem a função de medir a temperatura do fluido de arrefecimento do motor.
- (D) O hodômetro parcial serve para indicar ao condutor a carga e a voltagem atual da bateria do carro.

**Questão 24.** Para zelar pela conservação do veículo e garantir a segurança, o Motorista deve praticar a direção defensiva e obedecer às normas gerais de circulação, especialmente as regras de preferência de passagem nos cruzamentos. Diante disso, analise as afirmações abaixo:

- I. Quando dois veículos se aproximarem de um cruzamento não sinalizado, a preferência de passagem será sempre do veículo de maior porte, como o ônibus de passageiros.
- II. No caso de uma rotatória não sinalizada, terá a preferência de passagem aquele veículo que já estiver circulando por ela.
- III. Nos cruzamentos não sinalizados que não envolvam rodovias ou rotatórias, a preferência de passagem será do veículo que vier pela direita do condutor.

Está CORRETO o que se afirma em:

- (A) Apenas I e II.
- (B) Apenas II e III.
- (C) Apenas I e III.
- (D) I, II e III.

**Questão 25.** O sistema de lubrificação reduz o desgaste entre as peças móveis e ajuda no controle da sua temperatura. O \_\_\_\_\_ é o local no fundo do motor onde fica assentado o óleo lubrificante. Já o \_\_\_\_\_ é o componente responsável por reter as impurezas encontradas no óleo.

Preenche, CORRETA e respectivamente, as lacunas:

- (A) cárter - filtro de óleo.
- (B) radiador - filtro de ar.
- (C) carburador - alternador.
- (D) tanque de expansão - termômetro.