



Município de Mato Leitoão/RS  
Concurso Público 01/2026

# CADERNO DE PROVA

## AUXILIAR EM SAÚDE BUCAL


### INSTRUÇÕES




Confira se esse Caderno de Prova contém a quantidade de questões indicadas. A substituição deste Caderno de Prova ocorre apenas antes de iniciar a prova.


#### PROVA TEÓRICO-OBJETIVA

 3 horas

 40 questões

 4 alternativas

 Saída permitida somente após 1 hora de prova

 O candidato só poderá levar este Caderno após 2 horas de prova

- ⌚ O tempo de prova inclui o preenchimento do Cartão-Resposta.
- ⌚ Nenhuma informação acerca do conteúdo das questões será fornecida pelo Fiscal de Sala, pois é parte integrante da prova.
- ⌚ Antes de sair da Sala de Prova, entregue o Cartão-Resposta ao Fiscal de Sala, **devidamente assinado**, e, após, se desloque imediatamente para a saída do local de prova.
- ⌚ Ao final da prova, os 03 (três) últimos candidatos deverão permanecer na Sala de Prova até que o último termine a sua prova, devendo ambos testemunhar a devolução e o lacre dos documentos.
- ⌚ A divulgação do gabarito preliminar se dará conforme Cronograma de Execução do certame.

TODOS OS DIREITOS RESERVADOS À LEGALLE CONCURSOS. PROIBIDO REPRODUÇÃO.

#### RASCUNHO PARA GABARITO

|    |  |    |  |    |  |    |  |    |  |    |  |    |  |    |  |
|----|--|----|--|----|--|----|--|----|--|----|--|----|--|----|--|
| 01 |  | 06 |  | 11 |  | 16 |  | 21 |  | 26 |  | 31 |  | 36 |  |
| 02 |  | 07 |  | 12 |  | 17 |  | 22 |  | 27 |  | 32 |  | 37 |  |
| 03 |  | 08 |  | 13 |  | 18 |  | 23 |  | 28 |  | 33 |  | 38 |  |
| 04 |  | 09 |  | 14 |  | 19 |  | 24 |  | 29 |  | 34 |  | 39 |  |
| 05 |  | 10 |  | 15 |  | 20 |  | 25 |  | 30 |  | 35 |  | 40 |  |

Para responder às questões 01 a 06, leia o texto abaixo.

### **Demanda por trabalhadores mantém mercado resiliente, avalia IBGE**

A demanda por trabalhadores em todos os segmentos é o motivo da resiliência do mercado de trabalho, que vem mantendo a taxa de desemprego em nível mais baixo, apesar de fatores externos como o nível das taxas de juros. A avaliação é da coordenadora de Pesquisas por Amostra de Domicílios do Instituto Brasileiro de Geografia e Estatística (IBGE), Adriana Beringuy.

Conforme os dados PNAD Contínua, divulgada no mês de maio pelo Instituto Brasileiro de Geografia e Estatística (IBGE), a taxa de desemprego ficou em 5,8% no trimestre terminado em abril, um recuo de 0,8 pontos percentuais (p.p.) em relação ao mesmo trimestre de 2025, quando ficou em 6,6%. A taxa representa ainda alta de 0,4 p.p. na comparação com o período entre novembro de 2025 a janeiro de 2026.

“Tem um mercado que gera trabalho e renda e consegue manter-se sustentado porque há uma diversificação da produção. Hoje, não é só o setor público que contrata e nem só o setor privado. Esse espalhamento e essa difusão ajuda nessa resiliência do mercado de trabalho”, explicou a coordenadora.

Para Adriana Beringuy, o mercado de trabalho estaria mais vulnerável e sujeito à flutuações e com baixa sustentabilidade caso a procura por trabalhadores estivesse restrita, por exemplo, apenas ao comércio ou ao segmento informal.

“Na medida em que consegue ter vários setores demandando trabalhadores, isso dá sustentabilidade ao mercado de trabalho. Isso ajuda a amortecer determinados efeitos até do ponto de vista macroeconômico, que é a questão das taxas de juros”, disse.

Segundo a pesquisa, o rendimento real habitual de todos os trabalhos chegou a R\$ 3.732, o que significa estabilidade no trimestre e crescimento de 5,3% no ano.

Os resultados da PNAD-Contínua mensal de abril deste ano, indicaram ainda que o número de empregados no setor privado com carteira assinada, excluídos os trabalhadores domésticos, atingiu 39,3 milhões.

Esse patamar significa estabilidade em comparação ao trimestre anterior e ao mesmo trimestre de 2025. Os sem carteira no setor privado somaram 13,3 milhões e também ficaram estáveis no trimestre e no ano.

Outra estabilidade registrada no mercado de trabalho é a do número de empregados no setor público. São 12,9 milhões no trimestre, mas houve expansão de 3,4% ou mais 422 mil pessoas no ano. O número de trabalhadores por conta própria (26 milhões) também ficou estável no trimestre, embora tenha apresentado elevação de 2,3%, ou seja, mais 580 mil pessoas no ano.

Ainda no trimestre, os trabalhadores domésticos chegaram a 5,4 milhões, o que também é estabilidade no

período. Mas no ano, mostrou queda de 4,7%, ou menos 268 mil pessoas.

Fonte: <https://agenciabrasil.ebc.com.br/economia/noticia/2026-05/demanda-por-trabalhadores-mantem-mercado-resiliente-avalia-ibge> (adaptado)

**Questão 01.** Sobre o eixo sintático-semântico e o emprego das conjunções, analise um trecho do quarto parágrafo do texto: **caso a procura por trabalhadores estivesse restrita, por exemplo, apenas ao comércio.** A palavra sublinhada exprime CORRETAMENTE o valor de:

- (A) Condição (hipótese), formulando um cenário imaginário sob o qual o mercado ficaria mais vulnerável.
- (B) Tempo (cronologia), referindo-se ao exato instante em que o comércio deixou de contratar.
- (C) Adição (soma), inserindo um novo setor econômico na longa lista de contratações do IBGE.
- (D) Finalidade (propósito), apontando o objetivo estratégico das empresas comerciais na contratação de jovens.

**Questão 02.** No trecho **motivo da resiliência do mercado de trabalho, que vem mantendo a taxa de desemprego em nível mais baixo**, o termo sublinhado classifica-se sintaticamente como:

- (A) Uma conjunção integrante, introduzindo uma oração subordinada substantiva com função de objeto direto.
- (B) Um pronome relativo, pois retoma o antecedente **mercado de trabalho** e atua como sujeito da oração que introduz.
- (C) Uma partícula apassivadora, indicando que a ação de manter a taxa é sofrida pelo mercado.
- (D) Uma preposição essencial, exigida pela regência obrigatória do substantivo **resiliência**.

**Questão 03.** Em parágrafos como **“Tem um mercado que gera trabalho e renda e consegue manter-se sustentado [...]”**, o texto faz uso das aspas para apresentar a fala de Adriana Beringuy. Diante disso, qual é a intenção e o tipo de recurso mobilizado nessa estratégia?

- (A) Empregar o recurso do apelo emocional, buscando comover o leitor com as dificuldades sofridas pelos trabalhadores informais do país.
- (B) Utilizar figura de linguagem para criticar as estatísticas apresentadas pelo Instituto.
- (C) Valer-se do argumento de autoridade, inserindo o discurso direto de uma especialista para conferir credibilidade, rigor e fundamentação ao texto.
- (D) Fazer uso do argumento por senso comum, evidenciando que a afirmação representa a opinião da população brasileira.

**Questão 04.** No último parágrafo, o texto informa que o setor de trabalhadores domésticos mostrou **queda de 4,7%, ou menos 268 mil pessoas no ano**, enquanto os demais setores registraram estabilidade ou crescimento. O que se pode inferir logicamente a partir desse contraste?

- (A) O mercado formal diminuiu a possibilidade de contratação de trabalhadores domésticos.
- (B) Ocorre uma provável transição estrutural, indicando que trabalhadores domésticos podem estar migrando para outros setores em expansão ou mais atraentes.
- (C) A taxa de desemprego atual do país é composta pelos profissionais que saíram do trabalho doméstico.
- (D) O setor público foi o responsável por absorver e recontratar as 268 mil pessoas citadas no texto.

**Questão 05.** No terceiro parágrafo, encontra-se o vocábulo **espalhamento**. Do ponto de vista morfológico, essa palavra foi formada pelo processo CORRETO de:

- (A) Derivação prefixal, mediante o acréscimo do afixo **es-** ao radical primitivo.
- (B) Derivação sufixal, a partir da adição do sufixo formador de substantivo **-mento** à base do verbo **espalhar**.
- (C) Composição por aglutinação, unindo os vocábulos **espalhar** e **momento** com a perda de fonemas.
- (D) Derivação parassintética, pois necessita da inserção simultânea e obrigatória de um prefixo e um sufixo para existir no idioma.

**Questão 06.** No nono parágrafo, nota-se a seguinte construção: **O número de trabalhadores por conta própria (26 milhões) também ficou estável no trimestre, embora tenha apresentado elevação de 2,3%**. A conjunção sublinhada estabelece de forma CORRETA uma relação de:

- (A) Consequência, demonstrando o resultado direto e inevitável da estabilidade do trimestre.
- (B) Condição, indicando a regra estrita para que o mercado atingisse a marca de 26 milhões.
- (C) Causa, explicando a razão que levou os trabalhadores a atuarem por conta própria.
- (D) Concessão, introduzindo um fato (a elevação de 2,3% no ano) que contrasta com a ideia principal (a estabilidade no trimestre), mas que não a invalida.

## MATEMÁTICA

**Questão 07.** Uma reserva ambiental teve sua população de uma espécie monitorada. No primeiro ano, havia 500 indivíduos e, devido a ações de preservação, a população aumentou em 50 indivíduos a cada ano subsequente. Após quantos anos, contando imediatamente depois do primeiro registro, a população dessa espécie atingirá a marca de 1.250 indivíduos, mantendo-se a constância desse crescimento linear?

- (A) 14 anos.
- (B) 15 anos.
- (C) 16 anos.
- (D) 17 anos.

**Questão 08.** Um técnico de TI precisa configurar um conjunto de computadores. Se ele configurar 12 máquinas por dia, terminará o trabalho em um certo número de dias. Se ele conseguir aumentar sua produtividade para 15 máquinas por dia, terminará o serviço 2 dias antes do previsto inicialmente. Com base nessas informações sobre a cadência de trabalho e o prazo de entrega, qual é o número total de computadores que compõem esse lote técnico que deve ser configurado pelo profissional responsável?

- (A) 120.
- (B) 100.
- (C) 110.
- (D) 130.

**Questão 09.** Um sinal de trânsito em formato circular precisa ser contornado com uma fita refletiva de segurança. O raio desse sinal é de 35 centímetros. Utilizando a proporção de  $\pi = 3$ , qual é o comprimento total de fita refletiva que será necessário para dar exatamente duas voltas completas ao redor dessa placa de sinalização, visando garantir a visibilidade adequada para os motoristas que trafegam pela via pública durante o período noturno?

- (A) 440 cm.
- (B) 400 cm.
- (C) 380 cm.
- (D) 420 cm.

**Questão 10.** Uma determinada taxa de juros de 18% ao semestre é aplicada em um processo de parcelamento de tributos atrasados. Para fins de comparação com outras modalidades de crédito, o contribuinte deseja saber qual é a taxa mensal proporcional correspondente a esse valor semestral, adotando o regime de juros simples para a conversão. Assim, qual é o valor dessa taxa mensal que, multiplicada pelo número de meses do semestre, resulta exatamente nos 18% informados originalmente?

- (A) 2,5%.
- (B) 3,5%.
- (C) 3,0%.
- (D) 2,8%.

**Questão 11.** As notas de uma turma em um treinamento interno foram distribuídas da seguinte forma: 4 alunos tiraram 10, 6 alunos tiraram 8 e 10 alunos tiraram 5. Assim, qual é a média ponderada das notas dessa turma, considerando que o número de alunos em cada faixa de nota atua como o peso para o cálculo do desempenho global do grupo submetido à capacitação profissional?

- (A) 7,2.
- (B) 6,9.
- (C) 7,5.
- (D) 7,0.

**Questão 12.** Em um sistema de notificações, a quantidade de mensagens enviadas triplica a cada hora em caso de alerta crítico. Se na primeira hora foram enviadas 2 mensagens, quantas mensagens serão enviadas na sexta hora de operação do sistema, considerando que o gatilho de disparo NÃO foi interrompido e a progressão manteve sua razão geométrica original?

- (A) 486.
- (B) 162.
- (C) 243.
- (D) 512.

**UTILIZE ESTE ESPAÇO PARA CÁLCULOS**

**INFORMÁTICA**

**Questão 13.** Durante uma auditoria interna, um servidor precisou organizar instantaneamente quatro janelas de relatórios que estavam dispersas e sobrepostas em sua Área de Trabalho no Windows 11, de modo que cada janela ocupasse exatamente um quadrante (um quarto) da tela, permitindo a leitura simultânea dos dados. Para acionar o recurso nativo que exibe visualmente esses modelos de organização em quadrantes (**Snap Layouts**), o servidor deve posicionar o ponteiro do mouse sobre:

- (A) O ícone do **Menu Iniciar** na **Barra de Tarefas**.
- (B) Um espaço vazio no centro da **Barra de Tarefas**.
- (C) O botão **Fechar** (representado pelo "X") da janela ativa.
- (D) O botão **Maximizar/Restaurar** de qualquer uma das janelas ativas.

**Questão 14.** Um servidor de uma Prefeitura Municipal está redigindo o Manual de Procedimentos Padrão para o atendimento ao cidadão nas Praças de Atendimento do município. Para documentar visualmente o fluxo de triagem, encaminhamento e resolução de demandas, o servidor decide inserir um diagrama e clica no comando **Inserir > SmartArt** no Microsoft Word 365. Na caixa de diálogo que se abre imediatamente no centro da tela, ele visualiza na coluna da esquerda uma lista vertical de categorias oficiais para filtrar e escolher a estrutura visual mais adequada ao manual. Diante disso, assinale a alternativa que apresenta apenas nomes de categorias oficiais e visíveis na janela de escolha do **SmartArt** do Word 365.

- (A) Lista, Processo, Ciclo, Hierarquia, Relação, Pirâmide.
- (B) Fluxograma, Tabela Dinâmica, Banco de Dados, Rede.
- (C) Barra, Linha, Pizza, Área, Radar, Dispersão Geográfica.
- (D) Retângulo, Elipse, Seta de Bloco, Equação, Ilustrações.

**Questão 15.** Um servidor administrativo está unificando diferentes relatórios técnicos no Microsoft Word 365 para criar o relatório anual de atividades de uma Secretaria. Para agilizar a padronização visual entre os blocos de texto sem alterar o conteúdo redigido, ele decidiu utilizar o recurso **Pincel de Formatação**. Sobre o funcionamento desse recurso, analise as seguintes afirmações:

- I. Ao ativar o recurso, o ponteiro do mouse muda temporariamente de formato, exibindo o desenho de um pequeno pincel de pintura ao lado do cursor de texto.
- II. O recurso é capaz de copiar estilos aplicados a caracteres textuais, mas é incapaz de copiar propriedades de parágrafo, como o espaçamento entre linhas.

Acerca das assertivas, pode-se afirmar que:

- (A) I e II estão corretas.
- (B) Apenas I está correta.
- (C) Apenas II está correta.
- (D) I e II estão incorretas.

**Questão 16.** Durante o atendimento na recepção de uma Unidade de Saúde, o computador de um servidor começou a travar devido ao excesso de janelas de prontuários e agendamentos abertas na Área de Trabalho do Windows 11. Precisando consultar rapidamente um arquivo PDF com a lista de telefones de emergência que estava salvo diretamente na sua Área de Trabalho, o servidor utilizou um comando rápido para ocultar/minimizar instantaneamente todas as janelas abertas de uma só vez. Diante disso, assinale a alternativa que apresenta a combinação de teclas de atalho que executa a ação descrita.

- (A) Alt + F4.
- (B) Windows + L.
- (C) Windows + D.
- (D) Ctrl + Shift + Esc.

**Questão 17.** Considere a seguinte situação: *Um servidor da Secretaria Municipal de Educação percebeu que as páginas da web abriam em um navegador antigo e desatualizado. Para otimizar sua rotina e garantir a compatibilidade com as plataformas de ensino, ele deseja configurar o Google Chrome como o navegador padrão do seu computador. Para tanto, digitou **chrome://default** na barra de endereços do Chrome e aguardou que o próprio navegador processasse o comando e ativasse a alteração nas suas configurações internas.*

Pode-se afirmar que a ação do servidor para configurar o Chrome como navegador padrão está:

- (A) Correta, pois a digitação de comandos com o prefixo **chrome://** na barra de endereços é a única forma existente de gerenciar as preferências do aplicativo.
- (B) Correta, pois a barra de endereços funciona como uma linha de comando universal do Chrome, capaz de reconfigurar os parâmetros internos do software sem a necessidade de navegar pelos menus visuais.
- (C) Incorreta, pois o comando digitado é inválido e a definição de aplicativos padrão deve ser realizada por meio das configurações do próprio navegador.
- (D) Incorreta, pois o comando correto a ser digitado na barra de endereços para acessar o painel de alteração direta do aplicativo é **chrome://extensions/**.

**Questão 18.** Uma Assistente Social e um Psicólogo compartilham o mesmo computador físico em uma unidade de acolhimento municipal. Para evitar que um tenha acesso aos e-mails, históricos de pesquisa e senhas do outro, recomendou-se a utilização do recurso de Perfis do Google Chrome. Com base no funcionamento desse recurso, analise as seguintes assertivas:

- I. Os perfis do Google Chrome servem apenas para alterar a cor da janela do navegador, mantendo o compartilhamento obrigatório do mesmo banco de dados de senhas entre todos os usuários que utilizam o aplicativo.
- II. O Google Chrome permite a configuração de apenas um perfil por computador; portanto, para alternar o usuário da máquina, é obrigatório formatar e apagar todos os dados locais de navegação.

Acerca das assertivas, pode-se afirmar que:

- (A) I e II estão corretas.
- (B) Apenas I está incorreta.
- (C) Apenas II está incorreta.
- (D) I e II estão incorretas.

## ATUALIDADES

**Questão 19.** Antes de conquistar a sua autonomia política de emancipação, as pequenas vilas integram o território de municípios maiores. Assim, a qual município vizinho a região de Mato Leitão pertencia na figura de um de seus distritos oficiais desde 1957?

- (A) Venâncio Aires.
- (B) Lajeado.
- (C) Rio Pardo.
- (D) Santa Cruz do Sul.

**Questão 20.** Durante a fase conhecida como Primeira República (ou República Oligárquica), um sistema de poder altamente regionalizado dominou a política. Nesse cenário, o que significava na prática o chamado "coronelismo"?

- (A) O voto popular nas grandes capitais industriais por meio de cédulas eletrônicas invioláveis.
- (B) O poder exercido pelos grandes proprietários de terra sobre a população, exigindo voto para atender aos interesses da oligarquia.
- (C) Uma reforma militar que instituiu patentes exclusivas de coronéis no legislativo.
- (D) A imposição de leis trabalhistas urbanas aprovadas pelo senado, visando limitar a carga horária na cafeicultura.

**Questão 21.** Após vinte e um anos sob o comando dos governos militares, a Nova República buscou garantir os deveres e devolver o bem-estar social por meio das leis. Devido aos inúmeros artigos promulgados, garantindo fortes direitos à população e minorias, como a Constituição Brasileira de 1988 ficou historicamente conhecida?

- (A) Constituição Polaca.
- (B) Constituição Provisória.
- (C) Constituição Cidadã.
- (D) Constituição Unitária.

**Questão 22.** O Brasão de Mato Leitão foi confeccionado para recordar permanentemente a ancestralidade de seu povo. Diante disso, qual formato geométrico inicial foi escolhido para compor e emoldurar as características desse Brasão?

- (A) O Escudo Português arredondado.
- (B) O Escudo Alemão.
- (C) O Escudo Espanhol em formato de U.
- (D) O Escudo Suíço com entalhes no chefe.

**Questão 23.** O município de Mato Leitão destaca-se por ter vocação para a agricultura e impulsionar consideravelmente a sua bacia leiteira regional devido a qual principal aprimoramento efetuado dentro dos rebanhos bovinos?

- (A) Devido ao confinamento absoluto dos animais longe de toda luz natural, aumentando a silagem verde.
- (B) Graças à expressiva e constante melhoria da qualidade genética do seu rebanho.
- (C) Com a introdução da ordenha de fêmeas jovens trazidas do cerrado central.
- (D) Devido à eliminação em massa dos piquetes orgânicos rurais pelo uso de pasto sintético aquecido no inverno.

**Questão 24.** A queda do Imperador D. Pedro II ocorreu pela ausência de suporte e pela insatisfação de setores que consideraram a Proclamação da República de 1889 o único caminho seguro para preservar seus ganhos e o seu orgulho. Diante disso, quem formava esses fortes grupos insatisfeitos?

- (A) Os escravizados recém-libertos e os operários fabris têxteis nordestinos.
- (B) Os membros remanescentes da família real portuguesa aliada aos marinheiros britânicos residentes no litoral sul.
- (C) Os oficiais e altos quadros do Exército brasileiro aliados à rica elite cafeeira do estado de São Paulo.
- (D) Os indígenas do Centro-Oeste brasileiro organizados junto da imprensa conservadora do Vale do Paraíba.

### LEGISLAÇÃO

**Questão 25.** Pode-se afirmar, com base na Lei Orgânica, que perde o mandato o Vereador que utilizar-se do mandato para a prática de atos de corrupção, de improbidade administrativa ou atentatórios às instituições, bem como que deixar de comparecer, em cada período anual da legislatura, sem motivo justificado e aceito pela Câmara, à \_\_\_\_\_ das sessões ordinárias e a \_\_\_\_\_ sessões extraordinárias.

Preenche, CORRETA e respectivamente, as lacunas:

- (A) metade; três.
- (B) terça parte; cinco.
- (C) metade; cinco.
- (D) terça parte; três.

**Questão 26.** Analise o texto a seguir, com base no Regime Jurídico dos Servidores Públicos do Município:

*A prestação de serviços extraordinários só poderá ocorrer por expressa autorização da autoridade competente, mediante solicitação fundamentada do chefe da repartição, ou de ofício, sendo que o serviço extraordinário será remunerado com acréscimo de cinquenta por cento em relação à remuneração da hora normal.*

Acerca do texto, pode-se afirmar que ele está:

- (A) Plenamente adequado, visto que observa a legislação municipal vigente.
- (B) Parcialmente adequado, visto que não há necessidade de expressa autorização da autoridade competente para prestação de serviços extraordinários.
- (C) Plenamente inadequado, visto que em nada observa a legislação municipal vigente.
- (D) Parcialmente adequado, visto que o acréscimo citado é de vinte e cinco por cento em relação à remuneração da hora normal.

**Questão 27.** A Lei Orgânica cita que compete à Câmara de Vereadores, com a sanção do Prefeito, entre outras providências, legislar sobre todas as matérias atribuídas ao Município pelas Constituições Federal e Estadual, e por Lei Orgânica, especialmente sobre o previsto em quantos dos seguintes itens, por exemplo? **I.** Criação, alteração e extinção de cargos, funções e empregos do Município; **II.** Anistia de tributos, cancelamento, suspensão de cobrança e relevação de ônus sobre dívida ativa do Município; **III.** Transferência, temporária ou definitiva, da sede do Município, quando o interesse público o exigir.

- (A) Nenhum deles.
- (B) Apenas 1 deles.
- (C) Apenas 2 deles.
- (D) Todos os 3.

**Questão 28.** Autorizar o Prefeito e o Vice-Prefeito, nos casos exigidos, a se ausentar do Município é uma das atribuições previstas à Comissão Representativa, a qual funciona no período de recesso na Câmara de Vereadores. Conforme Lei Orgânica, também são atribuições:

- I.** Tomar medidas comuns e urgentes de competência da Câmara de Vereadores.
- II.** Convocar extraordinariamente a Câmara de Vereadores.

Acerca das assertivas, pode-se afirmar que:

- (A) Apenas I está correta.
- (B) I e II estão corretas.
- (C) Apenas I está incorreta.
- (D) I e II estão incorretas.

**Questão 29.** As alternativas a seguir apresentam afirmações que envolvem o exercício de função de confiança, conforme Regime Jurídico dos Servidores Públicos do Município. Nesse sentido, assinale a alternativa que apresenta informação INCORRETA.

- (A) A lei indicará os casos, condições e percentuais em que os cargos em comissão serão exercidos preferencialmente por servidores ocupantes de cargos de provimento efetivo.
- (B) A designação para o exercício de função gratificada poderá recair também em servidor ocupante de cargo efetivo de outra entidade pública posto à disposição do Município, sem prejuízo de seus vencimentos.
- (C) É facultado ao servidor efetivo do Município, quando nomeado para o exercício de cargo em comissão, optar pela designação para o exercício da função gratificada correspondente.
- (D) O valor da função gratificada será percebido alternativamente ao vencimento do cargo de provimento efetivo.

**Questão 30.** Uma das mutações funcionais previstas no Regime Jurídico dos Servidores Públicos do Município é a substituição. Acerca dessa mutação, analise as assertivas:

- I. O substituto fará jus ao vencimento do cargo em comissão ou do valor da função gratificada, proporcional aos dias de efetiva substituição.
- II. Dar-se-á a substituição de titular de cargo em comissão ou de função gratificada durante o seu impedimento legal, mediante a edição de ato de nomeação ou designação.

Acerca das assertivas, pode-se afirmar que:

- (A) Apenas I está correta.
- (B) I e II estão corretas.
- (C) Apenas I está incorreta.
- (D) I e II estão incorretas.

### CONHECIMENTOS ESPECÍFICOS

**Questão 31.** O processamento radiográfico odontológico é a conversão da imagem latente (invisível) em imagem visível e permanente no filme, utilizando soluções químicas (revelador e fixador). Sobre o processamento do filme, é CORRETO afirmar que:

- (A) Podem ser utilizados filmes ou soluções de processamento com prazo de validade expirado.
- (B) Deve ser realizada a inspeção visual do filme durante os processamentos manuais.
- (C) Os filmes devem ser armazenados em local próximo do calor, umidade, radiação e vapores químicos.
- (D) As soluções devem ser regeneradas ou trocadas quando necessário, de acordo com as instruções do fabricante.

**Questão 32.** Os resíduos químicos contêm substâncias químicas que podem apresentar risco à saúde pública ou ao meio ambiente, dependendo de suas características de inflamabilidade, corrosividade, reatividade e toxicidade. São exemplos de resíduos químicos, EXCETO:

- (A) Anestésicos.
- (B) Radiografias odontológicas.
- (C) Agulhas.
- (D) Reveladores e fixadores de radiografias.

**Questão 33.** Na prática odontológica, é comum a manipulação de sangue e outros fluidos orgânicos, que são as principais vias de transmissão do HIV e dos vírus das hepatites B (HBV) e C (HCV). Diante disso, assinale a alternativa que apresenta uma exposição do tipo percutânea nesses casos.

- (A) Acidente com brocas odontológicas.
- (B) Respingo de sangue nos olhos.
- (C) Sangue contaminado espirrando em uma mão com ferimento.
- (D) Paciente que mordeu o dedo do Auxiliar.

**Questão 34.** Na odontologia, é considerado paciente com necessidades especiais todo usuário que apresente uma ou mais limitações, temporárias ou permanentes, de ordem mental, física, sensorial, emocional, de crescimento ou médica, que o impeça de ser submetido a uma situação odontológica convencional. Diante disso, analise as assertivas abaixo, sobre o paciente com necessidade especial, julgando com C, para as Certas, ou E, para as Erradas:

- ( ) As equipes de saúde bucal devem ser capacitadas a fim de que possam, em nível local, estar aptas ao atendimento desses usuários, em níveis crescentes de complexidade de atendimento.
- ( ) A aplicação tópica de flúor gel e ART são considerados procedimentos importantes nos tratamentos odontológicos para estes usuários.
- ( ) Há sempre a necessidade de anestesia geral.

Qual alternativa preenche, CORRETAMENTE, de cima para baixo, os parênteses acima?

- (A) C – C – C.
- (B) C – C – E.
- (C) E – E – C.
- (D) E – C – E.

**Questão 35.** O Auxiliar em Saúde Bucal (ASB) é um dos profissionais que auxilia o Dentista em seus procedimentos, sendo peça fundamental da equipe odontológica. Sobre as atribuições do ASB, assinale a alternativa CORRETA.

- (A) O ASB pode fazer a tomada radiográfica.
- (B) O ASB pode remover suturas.
- (C) O ASB pode revelar/processar o filme radiográfico.
- (D) O ASB pode moldar o paciente.

**Questão 36.** Por que o hipoclorito de sódio NÃO deve ser usado em superfícies metálicas?

- (A) Porque é um agente altamente oxidante e corrosivo.
- (B) Porque não é um agente capaz de esterilizar.
- (C) Porque deixa cheiro.
- (D) Porque é da cor do metal, dificultando a visualização da limpeza.

**Questão 37.** Artigos semicríticos são aqueles que tocam, mas não penetram nos tecidos. Considerando isso, assinale a alternativa que apresenta CORRETAMENTE um artigo semicrítico.

- (A) Broca.
- (B) Fotopolimerizador.
- (C) Agulha.
- (D) Bancada.

**Questão 38.** Sobre o fórceps 17, assinale a alternativa CORRETA.

- (A) É utilizado para a exodontia de molares inferiores.
- (B) É amplamente conhecido como chifre de boi.
- (C) É utilizado somente na dentição decidua.
- (D) É amplamente reconhecido como o modelo padrão universal para a arcada inferior.

---

**Questão 39.** A colher de dentina é também chamada de escavador de dentina e é um instrumento odontológico essencial. Sobre a colher de dentina, analise as assertivas abaixo:

- I. É utilizada para remover a dentina amolecida e infectada.
- II. Com ponta em formato de colher, ela permite a remoção precisa do tecido infectado, a limpeza da câmara pulpar e a remoção de restos de alimentos ou cimentos provisórios.
- III. É utilizada para esculpir e modelar a resina composta.

Está(ão) CORRETA(S):

- (A) Apenas a assertiva I.
- (B) Apenas as assertivas I e II.
- (C) Apenas as assertivas II e III.
- (D) As assertivas I, II e III.

---

**Questão 40.** O tratamento da pessoa portadora do HIV ou com AIDS deve ser realizado sem preconceitos, seguindo procedimentos de rotina odontológica. Sobre o atendimento do paciente com HIV ou AIDS, é CORRETO afirmar que:

- (A) Não deve ser atendido na atenção básica, devendo ser mandado para os centros especializados de referência.
- (B) As manifestações bucais pelo HIV são comuns e podem representar os primeiros sinais clínicos da doença.
- (C) O uso de Equipamento de Proteção Individual (EPI) deve ser diferenciado no atendimento a esse tipo de paciente.
- (D) Exodontias não devem ser realizadas fora do âmbito hospitalar.